

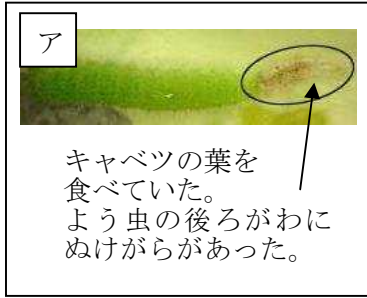


# 理科

## あすなる学習室「モンシロチョウのしくとかんさつ」

3年 組 番 名前 ( )

としおさんは、モンシロチョウのたまごが育っているようすを記録し、1枚ずつカードにまとめました。しかし、カードがばらばらになってしまったため、たまごが育っている順番になるように並べかえることにしました。



① 上のア～カを、たまごが育っているようすになるように、並べかえましょう。

→            →            →            →            →

② なおとさんは、上のイのカードに、「観察して気付いたこと」を書き忘れてしまいました。下のア～エの中から、イのカードに書く「観察して気付いたこと」として正しいものをすべて選び、記号で答えましょう。

ア キャベツの葉を食べていた。

イ あしが6本あった。

ウ からだが「あたま」と「むね」の2つにわかれていた。

エ あしは「むね」からはえていた。

③ モンシロチョウの成虫と同じからだのつくりをしている生き物を、1つ書きましょう。